



امتحان الفصل الدراسي الأول للصف الثاني عشر/ القسم الأدبي  
للعام الدراسي 2012 / 2013م

على الطالب التأكد من عدد صفحات الأسئلة  
الإجابة على ( الورقة نفسها )

السؤال الأول:

34

أولاً: اقرأ النص التاريخي الآتي، ثم أجب عما يليه من أسئلة :

تعود نشأة وتأسيس الدولة العثمانية إلى نخبة من السلاطين العظام الذين أسهموا في نهضة الدولة وتوسعها في آسيا وأوروبا وأفريقيا حتى أضحت إمبراطورية مترامية الأطراف يخطب ودها القاصي والداني ويخشأها القريب والبعيد، ومن هؤلاء السلاطين عثمان، أورخان، مراد الأول، بايزيد (الصاعقة)، محمد الثاني (الفاتح)، سليم الأول وعبدالحميد الثاني وغيرهم... إن مؤسسي الدول يلعبون دوراً كبيراً في بناء ونهضة وعزة أوطانهم... وهذا ما أكده صاحب السمو الشيخ خليفة بن زايد آل نهيان رئيس دولة الإمارات العربية المتحدة - حفظه الله - في كلمته بمناسبة اليوم الوطني الأربعين للدولة: ( إن الآباء المؤسسين هم روح الإتحاد ، ومن سيرتهم تستخلص الأجيال العبر وتواصل تحمل المسؤولية في وطن زاه بماضيه ويفخر بحاضره المعطاء وغده الواعد. مشيراً إلى أن دولتنا تبوأ مكانة مرموقة في المجتمع الدولي، بفضل ما تحققت خلال أربعة عقود من الإنجازات في كافة الميادين ، حيث أصبحت من أفضل الدول من حيث كفاءات الخدمات والسياسات العامة، مصداقية الحكومة تجاه المجتمع، وقوة الاقتصاد الذي يعد ثاني أكبر اقتصاد عربي لتصبح مركزاً لاستقطاب رجال الأعمال من كافة أرجاء العالم...)

1. استخلص من النص الفكرة الرئيسة.

2. بين من النص ثلاثة من السلاطين الذين أسهموا في نشأة الدولة العثمانية وتوسعها.

3. استنتج من النص اثنين من الإنجازات التي حققتها دولة الإمارات العربية المتحدة خلال أربعة عقود من عمر الإتحاد.

4. أكتب عوامل اتجاه العثمانيين نحو البلاد العربية.

5. وضّح من النص أربعاً من القيم السلوكية الإيجابية.

6. قدم اثنين من المقترحات التي يُمكن أن تُسهم في المحافظة على المنجزات التي حققتها دولة الإمارات العربية المتحدة.

ثانياً: ضع دائرة حول الإجابة الصحيحة من بين القوسين في كل من العبارات الآتية:

7. مدينة أوروبية، استضافت مؤتمر الصلح 1919م:

( مدريد - برلين - لندن - باريس )

8. قائد فرنسي تولى قيادة الحملة الفرنسية في مصر بعد رحيل نابليون 1799م:

( مينو - كليبر - ناليران - بليار )

9. شكل استعماري يقوم على تشجيع الدول الاستعمارية رعاياها على الهجرة إلى البلاد التي احتلتها:

( التمييز العنصري - الاستيطان - الوصاية - الانتداب )

10. دولة أوروبية حصلت على استقلالها عن الدولة العثمانية بموجب معاهدة أدرنة 1829م:

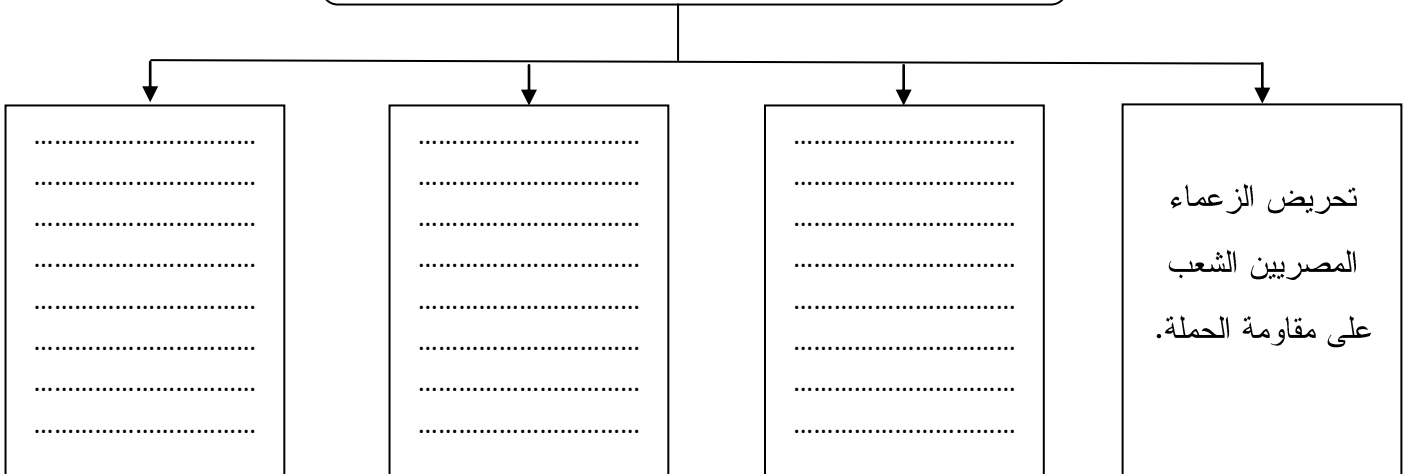
( الصرب - كرواتيا - رومانيا - اليونان )

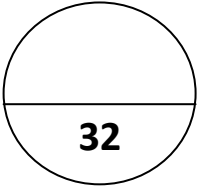
11. معركة 1827م، دمرت فيها الأساطيل الأوروبية الأسطول العثماني:

( عين شمس - جالديران - نافارين - نيقوبولس )

ثالثاً : استكمل بيانات المخطط الذهني التالي :

12. أسباب قيام ثورة القاهرة الأولى 21 أكتوبر 1798م:





السؤال الثاني:

أولاً: فسر تاريخياً كلاً مما يلي:

13. ضعف الدولة العثمانية. (العوامل الخارجية)

14. إصدار بريطانيا تصريح بلفور 1917م.

15. الحملة الفرنسية على مصر والشام 1798-1801م.

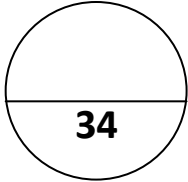
ثانياً: قارن بين اتفاقية سايكس/ بيكو 1916م ومؤتمر سان ريمو 1920م وفق الجدول التالي:

م	أوجه المقارنة	اتفاقية سايكس/ بيكو 1916م	مؤتمر سان ريمو 1920م
16	الأطراف المشاركة في كل منهما	-	-
17	وضع فلسطين في كل منهما	-	-

ثالثاً: ضع كلاً من الأحداث التاريخية الآتية حسب بنودها أو مضمونها أو نتائجها وفق الجدول التالي:

( فتح القسطنطينية - معركة عين شمس - القانون الأساسي "الدستور" - معركة أنقرة  
- معاهدة برلين - معركة الريدانية - قانون شريف كلخانة )

م	من البنود أو المضمون أو النتائج	السنة	الحدث التاريخي
18	وقوع بايزيد الأول أسيراً في يد تيمورلنك.	1402م	.....
19	امتداد رقعة الدولة العثمانية لتشمل معظم أملاك الدولة البيزنطية.	1453م	.....
20	انتصار العثمانيين على المماليك وأسر طومان باي.	1517م	.....
21	انتصار الفرنسيين على القوات العثمانية التي وصلت مصر عبر سورية	1800م	.....
22	قيام أول برلمان عثماني يُناقش أعمال الحكومة وينتقد الوزراء.	1877م	.....
23	وضع البوسنة والهرسك تحت الاشراف الإداري النمساوي.	1878م	.....



السؤال الثالث :

أولاً : أجب عن جميع الأسئلة التالية :

24. أكتب نتائج معركة أبوقير البحرية 1798م.

.....

.....

25. استخلص قرارات المؤتمر السوري العام 1920م.

.....

.....

26. استنتج دوافع الاستعمار الأوروبي للوطن العربي.

.....

.....

27. وضح رأيك في المواقف والأحداث التاريخية التالية ، بوضع إشارة (✓) في المكان الذي يُعبّر عن رأيك مع كتابة السبب:

م	المواقف والأحداث التاريخية	موافق	غير موافق	السبب
أ	عدم التزام الحلفاء بوعودهم التي قطعوها على أنفسهم للمنحهم الحرية والاستقلال بعد الحرب العالمية الأولى.			..... .....
ب	قيام السلطان محمود الثاني بالقضاء على الفرقة الانكشارية الراضة للإصلاح عام 1826م.			..... .....

ثانياً: صنف كل من الشخصيات التاريخية الآتية حسب الدور أو العمل الذي قامت به كل منهم، وفق الجدول التالي:

( أوركخان بن عثمان - عبدالله غول - أرطغرل بن سليمان - محمد كريم - مراد الأول )

الدور أو العمل	28. التحق بخدمة الأمير السلجوقي علاء الدين وساعده في حربه مع البيزنطيين.	29. تغلب على الصرب والبغار في موقعتي قوصوه ومارتيزا.	30. تكوين أول فرقة من طوائف الانكشارية.	31. قاد حركة المقاومة الشعبية في الإسكندرية ضد الحملة الفرنسية.	32. الرئيس الحالي للجمهورية التركية.
الشخصية التاريخية	.....	.....	.....	.....	.....

ثالثاً: اربط بين الصورة والشكل المقابل لها، ثم استخلص الحقيقة التاريخية المناسبة ودونها في الفراغ الذي يليهما:



33. الحقيقة التاريخية :



الحملة الفرنسية على مصر

34. الحقيقة التاريخية :

انتهت الأسئلة