

أسئلة مراجعة للصف التاسع – الدراسات الاجتماعية

ضع إشارة (√) أمام الإجابة الصحيحة و (x) أما الإجابة الخاطئة .

- 1-تشكل الإمارات مع دول الخليج العربي البوابة الشرقية للوطن العربي . ()
- 2-تتسم حدود الوطن العربي بالطول و الاستقامة بخاصة بالجناح الأفريقي . ()
- 3-جبال دولة الإمارات نوعها جبال ألتوائية . ()
- 4-رياح الهبوب من الريح المحلية التي تهب على الوطن العربي . ()
- 5-في عهد أورخان بن عثمان تم تأسيس الجيش الانكشاري . ()
- 6-التميز العنصري هو حرمان السكان الأصليين من حقوقهم الاقتصادية و الاجتماعية و السياسية و الدينية . ()
- 7-سيطر البرتغاليون على مناطق كثيرة في منطقة الخليج العربي وصولاً إلى البحرين و القطيف . ()
- 8-الدولار هو العملة الموحدة لدى دول الاتحاد الأوروبي . ()
- 9-عندما تتفوق دولة على دولة في الانتاج يسمى سهولة الانتاج . ()
- 10-السيارات تعتبر من البضائع الدولية . ()

عرف المصطلحات من خلال دراستك و فهمك .

1-الرياح المحلية:

.....

2-السهول الساحلية :

.....

3-الحماية:

.....

4-التجارة الإلكترونية :

.....

5-الضريبة :

.....

6-الدستور :

.....

7-الدستور:

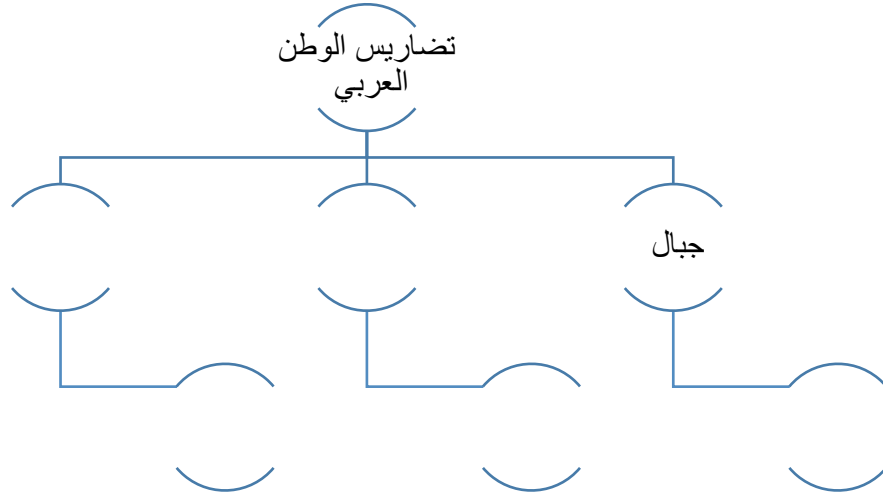
.....



صحح الحقائق المناخية التالية في الجدول المناخي إن وجدت .

وجه المقارنة	المناخ الصحراوي	المناخ المداري	مناخ البحر المتوسط
المناطق	وسط العالم العربي	المناطق الجنوبية	شرق العالم العربي
مميزاته المناخية	حار صيفاً بارد شتاءً	حار صيفاً فقط	حار صيفاً ممطر شتاءً
نوع النبات الطبيعي	الأرز	السافانا	البلوط

كون مخططاً ذهنياً لتضاريس الوطن العربي :

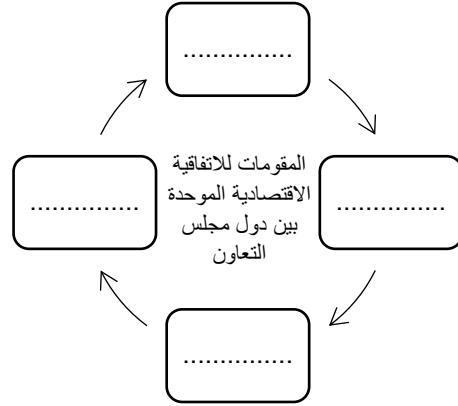




أكمل الأشكال البيانية التالية .



وضح التجارة الداخلية و الخارجية عن طريق الخريطة



انتبه لهذه الصورة

اقرأ ثم أجب:

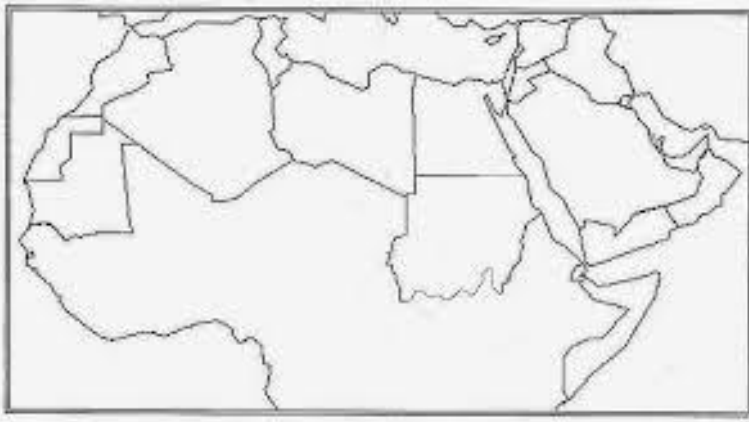
صمم خطة إجرائية للحد من انتشار بعض السلع المنافسة للسلع الوطنية



	المشكلة
	نتيجة
	الحل
	كيفية تطبيق الحل



حدد على الخريطة ما يلي بوضع الأرقام :



1-المناخ الصحراوي

2-الجبل الأخضر

3-البحر المتوسط

4-الرياح الجنوبية الشرقية الصيفية (حدد
بالأسهم)

5-السودان